

WTOREK 07.04.20r. – LICZENIE PISANEK









- *Ćwiczenia z pisankami.*



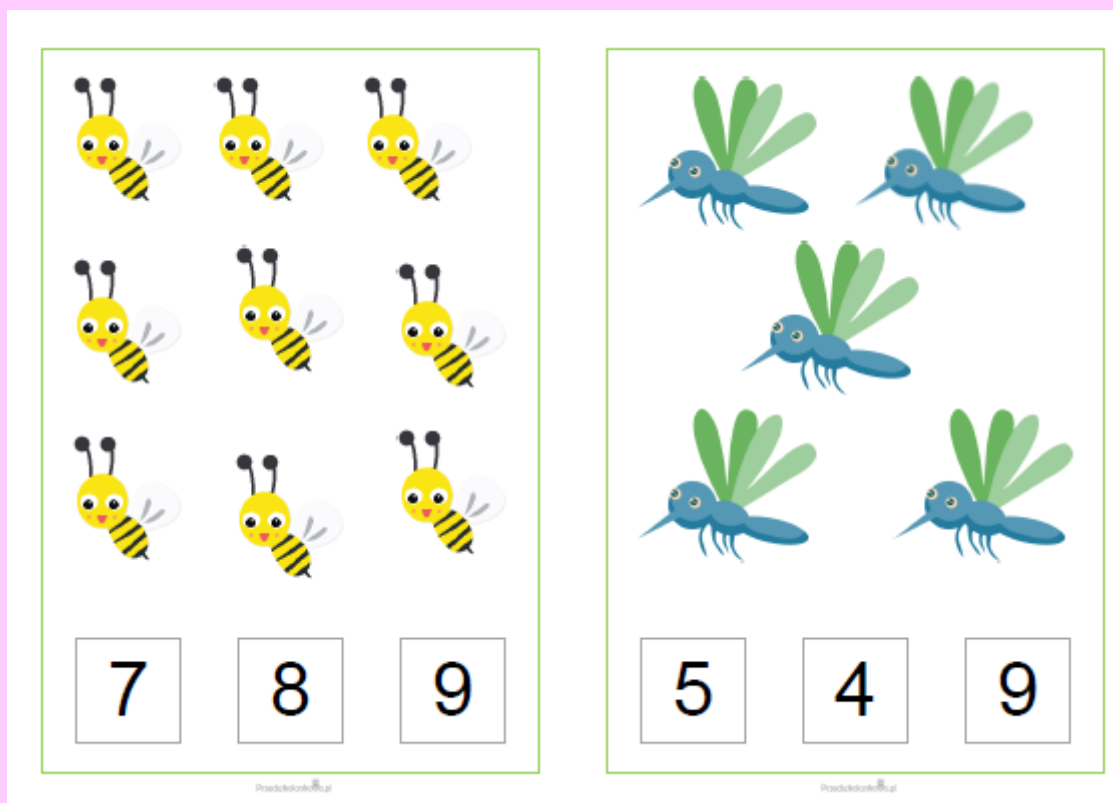
-- *Ile pisanek jest na pierwszym obrazku? Ile na drugim?*

Ile jest razem?

- *Spróbuj policzyć, prawidłowy wynik pokoloruj.*

 2	 4	 5	 3
+	+	+	+
 4	 3	 1	 5
4 6 9	8 4 7	4 6 9	8 4 7

- *Pokoloruj właściwą cyfrę.*



- *Możemy do liczenia wykorzystać liczmany*

Pierwszy koszyczek do 6 liczmanów dosuwamy 4 liczmany – razem 10 pisanek.

Drugi koszyczek do 5 liczmanów dosuwamy 4 liczmany – razem 9 pisanek. Porównywanie liczebności.

- *Posprzątajcie dzisiaj swój pokój oraz poukładajcie swoje zabawki.*
- *Pomórzcie rodzicom w porządkach świątecznych.*

UDANEJ ZABAWY PANI ANETKA I ANIA